

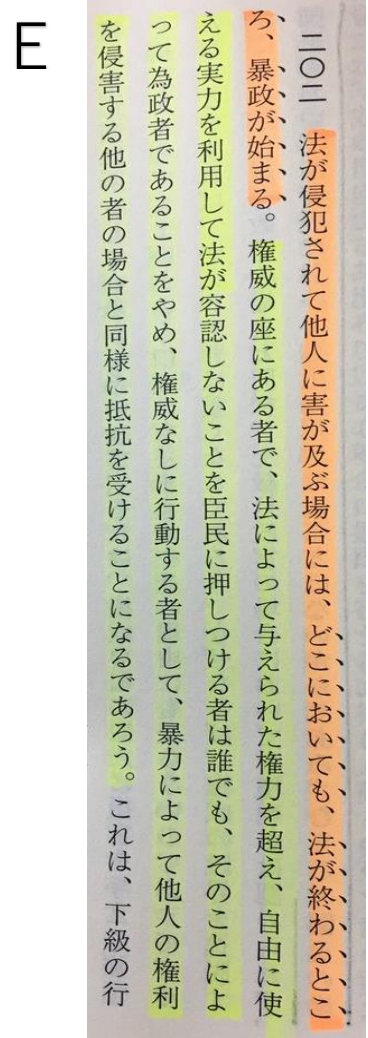



# 共通テスト世界史対策 | 学期実力テスト (9月13日)

第1問 世界史における遺物・史料・書籍に関する問題です。



- Aは国王も法に従うという原則が決められたもの
- Bは騎士道物語の代表的な書。主人公が非業の死を遂げる
- Cは現在ルーヴル美術館に保存されているもの
- Dは中国を訪れたある人物の口述筆記の紀行録
- Eは権力の座にある者に対する抵抗権の正当性を示している

設問1：先生の質問に対する正しい答えを述べている生徒は誰ですか？

- 先生 ここにあるA～Eからそれぞれ2つずつあげて、その類似点を考えてみましょう。
- 生徒あ AとBはともにフランスのモノですよね。
- 生徒い CとDは東アジアに関係する内容が書かれているはずですよ。
- 生徒う AとEはともにイギリス国王に対して提言されたものです。
- 生徒え BとDはアジアへの興味を湧き立たせたものだと思います。

設問2：Bの叙事詩が広がったところの世界として、最も適切なものを1つ選びなさい。

- あ：ヨーロッパでペストが大流行した
- い：唐による東アジア文化圏が形成された
- う：オランダの植民活動が活発化した
- え：トルコ系の遊牧民族がイラン地方を支配した

設問3：Cは法の厳しさと身分差別が存在することを示すことが刻まれた遺物です。〈法の厳しさ〉について述べた文として誤っているモノを1つ選びなさい。

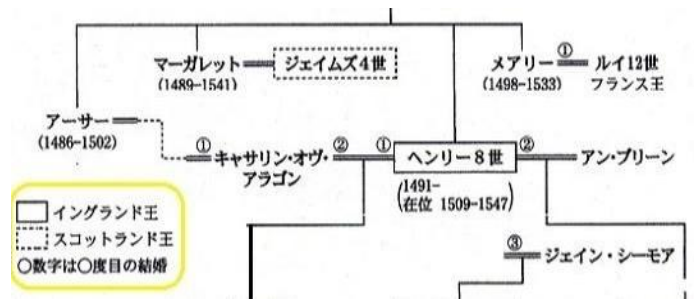
- あ：秦では法家思想のもと、多くの儒学者が殺された。
- い：『マヌ法典』はヒンドゥー教徒の生活を厳しく規制している。
- う：ユダヤ人は、「十戒」をはじめ、戒律の厳格さで民族性を強めた。
- え：ホルテンシウス法は、平民を排除した貴族独占の政治を定めた。

設問4：Dの著者が中国を訪れているときに、目にしていない可能性が最も高いものを1つ選びなさい。

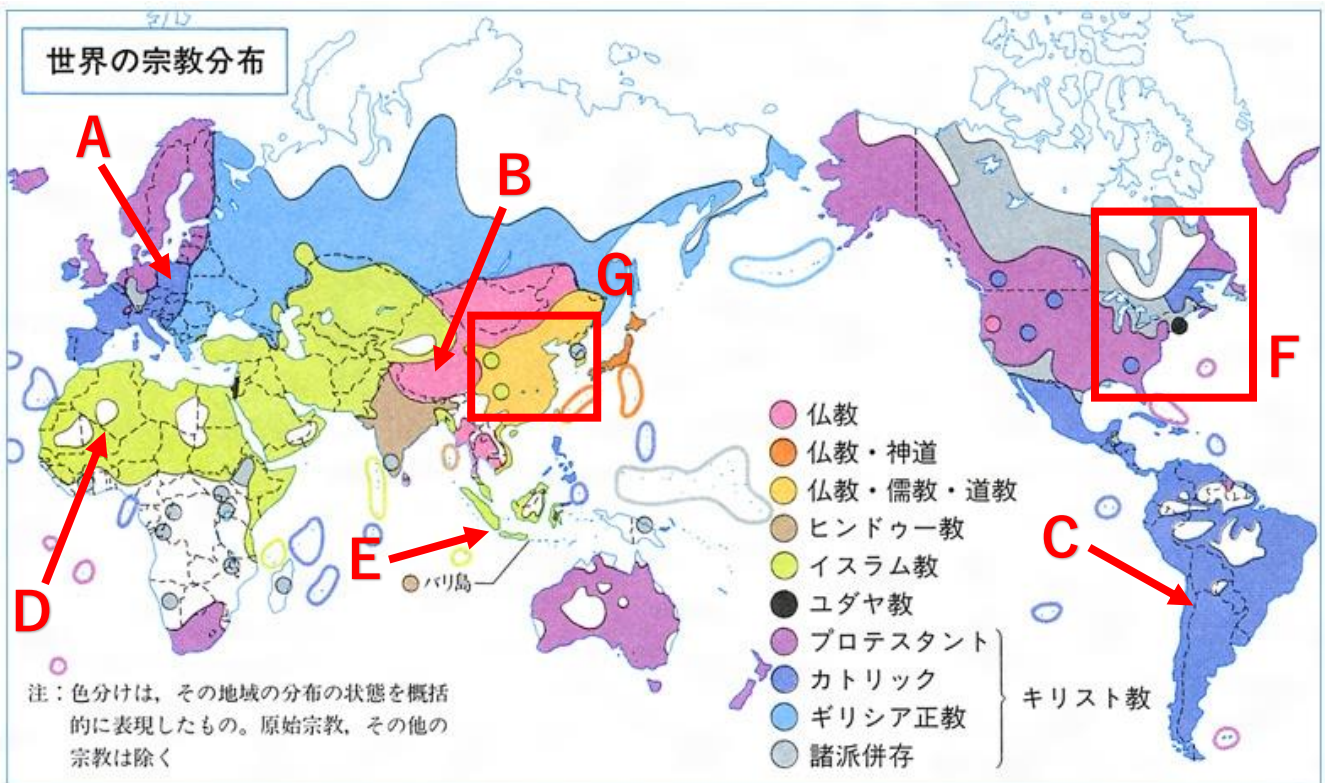
- あ：チベット仏教寺院
- い：イエズス会士
- う：大運河
- え：市舶司

設問5：Eは絶対王政に対する革命の正当性を説いた書物ですが、その絶対王政を敷いた王家は下の家系図の記載されているスコットランド王の血筋から生まれた王家であった。その王家の王とその業績の組み合わせとして正しいモノを選びなさい。

- あ：メアリ1世（名誉革命）
- い：ジェームズ1世（大ブリテン王国）
- う：エリザベス1世（東インド会社）
- え：チャールズ2世（審査法）



第2問 下にある〈世界の宗教分布〉と〈中国都市地図〉について、あとの設問に答えなさい。



設問6：下の3つの説明文に1つも当てはまらない地域を地図中のA～Eより1つ選びなさい。

- 後から侵入してきた国家・民族が現在の宗教を植え付けた
- 現在の宗教に至るまで、この地域には凡例にある有名宗教が広がったことはない
- この地域の宗教には現在でも宗教的なリーダーが存在している

設問7：地図中のFの地域の宗教について述べた文章にある5つの下線の語句の中から適語の組み合わせとして正しいものを1つ選びなさい。

枠内の北東部にカトリックが多いのは北米におけるaスペインの最初の植民地であったため、その後のbフランスが植民地戦争で勝利をしたことで、c中央部から北西部にかけては併存地域になった。また、プロテスタントのdイギリス人が13植民地を形成したことで合衆国東岸はプロテスタント化された。枠の中央部のユダヤ教徒はe奴隷としてこの地域に住みついた。

- あ：aとb      い：aとd      う：bとc      え：cとd      お：dとe

設問8：地図中のGの枠中の西部にいるイスラーム教徒がこの地域に住みついた時代（複数王朝）に置かれた都を地図から選び、またその都市の説明との組み合わせが正しいものを1つ選びなさい。

- あ：北京 = 戦国時代には齊の支配下にあった  
 い：長安 = 反乱や戦乱で何度も廃墟になっている  
 う：洛陽 = この町の近郊に石窟寺院がある  
 え：開封 = 遼の侵入をうけて、南へ遷都した



設問9：中国地図の★に首都があった時代に活躍した文化人とその人物と同じ文化分野（絵画・書道・詩・小説など）に当てはまる人物との組み合わせが正しいものを1つ選びなさい。

- あ：王羲之 = ラシーヌ  
 い：顧愷之 = ブリュエール  
 う：司馬遷 = ヘロドトス  
 え：郭守敬 = プトレマイオス

第3問 右にあるグラフを読み取り、最も正しいことを言っている文を1つ選びなさい。

- あ：五代の争乱や紅巾の乱は気温が低かったことも原因と言える  
 い：鉄製農具や牛耕の発明の背景には温暖化も要因にある  
 う：黄巾の乱から魏晉の時代は暑さのため、飢饉が多かった  
 え：前漢武帝や唐太宗の安定期は平均よりも温暖な時期であった

